

# FOTORALLYE 2021

## „Egeria Winter-Special“

Gesucht wird die **Egeria Geheimzahl**. Bei allen 10 Fotos gibt es ein Zahlenrätsel. Ihr addiert alle Zahlen der einzelnen Bilder zusammen und erhaltet so die Geheimzahl. Auch Kommazahlen sind möglich. Ihr könnt beim ersten Bild starten und der Reihe nach die Orte ablaufen. Ihr könnt aber auch eine andere Reihenfolge wählen.

Teilt uns eure Geheimzahl (mit eurem Namen) bis zum 03.02.2021 mit. Die Gewinner erhalten am 05.02. von uns einen kleinen Preis für die richtige Geheimzahl. Draußen am Vorplatz des Jugendhauses findet die Übergabe statt (14 - 18 Uhr).

Die Geheimzahl könnt ihr uns über folgende Wege mitteilen:

[Briefkasten](#) Jugendhaus Lustnau

E-Mail: [Jugendhaus-Lustnau@tuebingen.de](mailto:Jugendhaus-Lustnau@tuebingen.de)

Oder per Message via Facebook und Instagram

<https://www.facebook.com/jugendhaus.lustnau.de>

[https://www.instagram.com/jugendhaus\\_lustnau](https://www.instagram.com/jugendhaus_lustnau)

Viel Spaß und los geht's!

Euer Jugendhaus Team  
Elisabeth & Simon

Jugendhaus Lustnau  
Nürtinger Straße 66  
72074 Tübingen



Wie viele Traktorreifen sind auf dem Freizeitgelände „Egeria Wiesen“ zu finden?



Wie viele dieser Stahlpfeiler seht ihr auf dem gesamten Platz? Ihr müsst von einer Stelle aus alle gemeinsam sehen.



Hier gibt es türkisfarbene Stühle. Wie viele sind nur an diesem Platz mit einander verkettet?




Hier stehen wie viele Poller insgesamt in diesem Abschnitt?




Zählt alle „Steinfosten“ die im Kreis um diesen Brunnen stehen?




An diesem Straßenschild gibt es auf halber Höhe ein gelbes Schild. Zählt nur die zwei großen Zahlen, welche Kommastellen besitzen, zusammen. Welche Zahl ergibt das?



Wie viele Glascontainer stehen hier am Ende dieser Brücke?



Welche einzige Buslinie fährt an dieser Brücke? Zählt auch diese Busliniennummer zur Geheimzahl dazu.



Hier können Longboards ausgeliehen werden. Wieviel Euro kostet das Ausleihen für eine Stunde? Es steht rechts auf dem grauen Container in blauer Schrift. Zählt die Zahl ebenfalls zur Geheimzahl dazu.

Über diesen schönen Briefkästen befindet sich eine Hausnummer. Welche ist das? Addiert auch diese letzte Zahl zur Geheimzahl dazu.

